

# MAT0022 - Chapter 2

## Math Connections

### Valencia College

SHORT ANSWER. Write the word or phrase that best completes each statement or answers the question.

## 2.1

Represent the quantity by an integer.

1) 138 feet above sea level

1) \_\_\_\_\_

2) 24° below zero

2) \_\_\_\_\_

3) \$338 profit

3) \_\_\_\_\_

4) finding 52 cents

4) \_\_\_\_\_

5) The team gave up 20 points.

5) \_\_\_\_\_

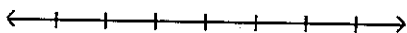
6) a climb of 128 feet down into a subterranean cave

6) \_\_\_\_\_

Graph the numbers on the number line.

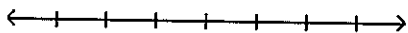
7) -7, -5, -3, -1

7) \_\_\_\_\_



8) -5, -3, -1, 1

8) \_\_\_\_\_



Insert < or > to make the statement true.

9) -7 \_\_\_\_\_ 5

9) \_\_\_\_\_

10) 36 \_\_\_\_\_ -52

10) \_\_\_\_\_

11) -82 \_\_\_\_\_ -65

11) \_\_\_\_\_

12) 9 \_\_\_\_\_ 0

12) \_\_\_\_\_

13) 0 \_\_\_\_\_ 6

13) \_\_\_\_\_

14) -6 \_\_\_\_\_ 6

14) \_\_\_\_\_

15) -6 \_\_\_\_\_ 0

15) \_\_\_\_\_

16) 66 \_\_\_\_\_ -85

16) \_\_\_\_\_

17)  $-76 \underline{\hspace{1cm}} -31$

18)  $8 \underline{\hspace{1cm}} 0$

19)  $0 \underline{\hspace{1cm}} 5$

20)  $-8 \underline{\hspace{1cm}} 8$

21)  $-2 \underline{\hspace{1cm}} 0$

17)                     

18)                     

19)                     

20)                     

21)                     

**Simplify.**

22)  $|24|$

23)  $|-6|$

24)  $|11|$

25)  $|45|$

26)  $|-43|$

22)                     

23)                     

24)                     

25)                     

26)                     

**Find the opposite of the integer.**

27)  $7$

28)  $-4$

29)  $27$

30)  $-17$

31)  $-1$

32)  $137$

33)  $3$

34)  $-3$

35)  $17$

36)  $-21$

37)  $1$

27)                     

28)                     

29)                     

30)                     

31)                     

32)                     

33)                     

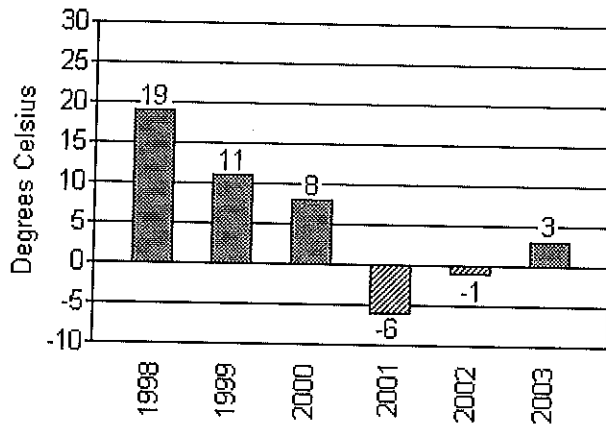
34)                     

35)                     

36)                     

37)

The bar graph below shows the temperatures recorded as the high temperature in Little City on Brianna's birthday for the indicated years.



39) In which year was the temperature closest to  $0^{\circ}\text{C}$ ?

39) \_\_\_\_\_

40) In which year was the recorded temperature the highest?

40) \_\_\_\_\_

41) In which year was the temperature closest to  $5^{\circ}\text{C}$ ?

41) \_\_\_\_\_

**Simplify.**

42)  $-|2|$

42) \_\_\_\_\_

43)  $-|93|$

43) \_\_\_\_\_

44)  $-|-13|$

44) \_\_\_\_\_

45)  $-(-3)$

45) \_\_\_\_\_

46)  $-|13|$

46) \_\_\_\_\_

47)  $-|-14|$

47) \_\_\_\_\_

48)  $-(-13)$

48) \_\_\_\_\_

**Evaluate.**

49)  $|-x|$  if  $x = 7$

49) \_\_\_\_\_

50)  $-|x|$  if  $x = -6$

50) \_\_\_\_\_

51)  $-|-x|$  if  $x = 13$

51) \_\_\_\_\_

**Insert  $<$ ,  $>$ , or  $=$  between the pair of numbers to make a true statement.**

52)  $| -5 |$  \_\_\_\_\_  $| -11 |$

52) \_\_\_\_\_

53)  $| -14 |$  \_\_\_\_\_  $- (-14)$

53) \_\_\_\_\_

54)  $- | 64 |$  \_\_\_\_\_  $- (-64)$

54) \_\_\_\_\_

55)  $0$  \_\_\_\_\_  $-71$

55) \_\_\_\_\_

56)  $0$  \_\_\_\_\_  $| -51 |$

56) \_\_\_\_\_

57)  $- | -19 |$  \_\_\_\_\_  $- | -32 |$

57) \_\_\_\_\_

58)  $- (-5)$  \_\_\_\_\_  $- (-29)$

58) \_\_\_\_\_

59)  $-19$  \_\_\_\_\_  $- (-34)$

59) \_\_\_\_\_

Fill in the chart.

60)

Number	Absolute Value of Number	Opposite of Number
64		
-83		

60) \_\_\_\_\_

Write the given integers in order from least to greatest.

61)  $-(-2)$ ,  $5^2$ ,  $-10$ ,  $- | -6 |$ ,  $| -11 |$

61) \_\_\_\_\_

62)  $2^2$ ,  $- | 2 |$ ,  $- (-6)$ ,  $- | -9 |$

62) \_\_\_\_\_

Evaluate.

63)  $- (- | -4 |)$

63) \_\_\_\_\_

64)  $- (- | - (-7) |)$

64) \_\_\_\_\_

65)  $- (- | -6 |)$

65) \_\_\_\_\_

Determine whether the statement is true or false.

66) If  $a > b$ , then  $a$  must be a positive number.

66) \_\_\_\_\_

67) The absolute value of a number is always a positive number.

67) \_\_\_\_\_

68) A positive number is always greater than a negative number.

68) \_\_\_\_\_

69) Zero is always less than a positive number.

69) \_\_\_\_\_

70) Zero is always less than a negative number.

70) \_\_\_\_\_

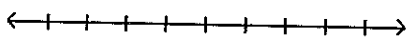
71) The number  $-a$  is always a negative number.

71) \_\_\_\_\_

## 2.2 - 2.3

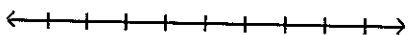
Add the numbers using the number line.

72)  $3 + (-2)$



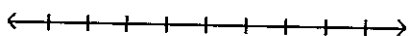
72) \_\_\_\_\_

73)  $-4 + 3$



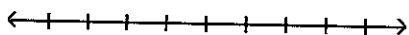
73) \_\_\_\_\_

74)  $-2 + 0$



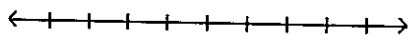
74) \_\_\_\_\_

75)  $-7 + (-3)$



75) \_\_\_\_\_

76)  $9 + (-4)$



76) \_\_\_\_\_

Add.

77)  $29 + 48$

77) \_\_\_\_\_

78)  $6 + (-4)$

78) \_\_\_\_\_

79)  $-9 + 5$

79) \_\_\_\_\_

80)  $29 + (-94)$

80) \_\_\_\_\_

81)  $9 + (-9)$

81) \_\_\_\_\_

82)  $-17 + 8$

82) \_\_\_\_\_

83)  $-72 + (-31)$

83) \_\_\_\_\_

84)  $23 + (-20) + (-5)$

84) \_\_\_\_\_

85)  $14 + 16 + (-25)$

85) \_\_\_\_\_

86)  $-19 + 24 + (-17)$

86) \_\_\_\_\_

87)  $-3 + (-11) + (-6) + (-4)$

87) \_\_\_\_\_

88)  $-16 + (-20) + (-13) + (-8) + 10 + (-16)$

88) \_\_\_\_\_

89)  $1 + (-14) + 18 + (-5) + 2 + (-5)$

89) \_\_\_\_\_

**Evaluate the expression for the given replacement values.**

90)  $x + y$  for  $x = 11$  and  $y = -63$

90) \_\_\_\_\_

91)  $2x + y$  for  $x = 6$  and  $y = -3$

91) \_\_\_\_\_

**Solve.**

92) Lauren scored 11 points in her basketball game on Monday, 15 points on Wednesday, 3 points on Friday, and 18 points on Saturday. Find her total points scored for the week.

92) \_\_\_\_\_

93) The Neighborhood Lemonade Stand, Inc. reported net incomes of  $-\$421$ ,  $-\$131$ , and  $-\$386$  for the past three years. What was its total net income for these three years?

93) \_\_\_\_\_

94) On part of a scenic tour of underground caves, Dave and Neil started at an elevation of  $-42$  feet. They then rose 21 feet. What was their elevation at this point?

94) \_\_\_\_\_

95) The temperature at 4 p.m. on January 16 was  $-15^\circ$  Fahrenheit. By 11 p.m. the temperature had risen 23 degrees. Find the temperature at 11 p.m.

95) \_\_\_\_\_

96) Lauren scored 16 points in her basketball game on Monday, 20 points on Wednesday, 9 points on Friday, and 11 points on Saturday. Find her total points scored for the week.

96) \_\_\_\_\_

97) The Neighborhood Lemonade Stand, Inc. reported net incomes of  $-\$196$ ,  $-\$102$ , and  $-\$396$  for the past three years. What was its total net income for these three years?

97) \_\_\_\_\_

98) On part of a scenic tour of underground caves, Dave and Neil started at an elevation of  $-41$  feet. They then rose 20 feet. What was their elevation at this point?

98) \_\_\_\_\_

99) The temperature at 3 p.m. on January 26 was  $-7^\circ$  Fahrenheit. By 8 p.m. the temperature had risen 22 degrees. Find the temperature at 8 p.m.

99) \_\_\_\_\_

**Determine whether the statement is true or false.**

100) The sum of two positive numbers is always a positive number.

100) \_\_\_\_\_

101) The sum of a positive number and a negative number is always a negative number.

101) \_\_\_\_\_

102) The sum of zero and a positive number is always a positive number.

102) \_\_\_\_\_

103) The sum of zero and a positive number is always a negative number.

103) \_\_\_\_\_

**Subtract.**

104)  $1 - 13$

104) \_\_\_\_\_

105)  $-1 - 9$

105) \_\_\_\_\_

106)  $-9 - (-1)$

106) \_\_\_\_\_

107)  $10 - (-1)$

107) \_\_\_\_\_

108)  $2 - 2$

108) \_\_\_\_\_

109)  $0 - 16$

109) \_\_\_\_\_

110)  $-12 - 12$

110) \_\_\_\_\_

111)  $-19 - (-19)$

111) \_\_\_\_\_

112)  $0 - (-4)$

112) \_\_\_\_\_

113)  $-120 - 440$

113) \_\_\_\_\_

114)  $-149 - (-97)$

114) \_\_\_\_\_

**Translate the phrase; then simplify.**

115) Subtract 26 from -14.

115) \_\_\_\_\_

116) Find the difference of -29 and -3.

116) \_\_\_\_\_

**Add or subtract as indicated.**

117)  $-75 + (-2)$

117) \_\_\_\_\_

118)  $4 - 13$

118) \_\_\_\_\_

119)  $-6 - 9$

119) \_\_\_\_\_

120)  $-17 + 5 - (-11)$

120) \_\_\_\_\_

121)  $14 - (-2) + 11$

121) \_\_\_\_\_

122)  $5 + (-20) - 10 + (-15)$

122) \_\_\_\_\_

123)  $-17 + 6 - (-7) - 17$

123) \_\_\_\_\_

Translate the phrase to an algebraic expression. Use  $x$  to represent "a number."

124) Find the sum of 42 and a number.

124) \_\_\_\_\_

125) Subtract a number from -15.

125) \_\_\_\_\_

126) Find the difference of -31 and a number.

126) \_\_\_\_\_

127) The sum of -7 and a number

127) \_\_\_\_\_

128) Find the sum of 44 and a number.

128) \_\_\_\_\_

129) Subtract a number from -10.

129) \_\_\_\_\_

130) Find the difference of -28 and a number.

130) \_\_\_\_\_

131) The sum of 14 and a number

131) \_\_\_\_\_

Evaluate the expression for the given replacement values.

132)  $x - y$  for  $x = -21, y = 9$

132) \_\_\_\_\_

133)  $x - y$  for  $x = 12, y = -29$

133) \_\_\_\_\_

134)  $x - y$  for  $x = -5, y = -27$

134) \_\_\_\_\_

135)  $3x - y$  for  $x = 9, y = -3$

135) \_\_\_\_\_

136)  $2x - y$  for  $x = 11, y = -18$

136) \_\_\_\_\_

Simplify.

137)  $|-3| - |-13|$

137) \_\_\_\_\_

138)  $|-15| - |-2|$

138) \_\_\_\_\_

139)  $|-20| - |20|$

139) \_\_\_\_\_

## 2.4

Multiply.

140)  $9(10)$

140) \_\_\_\_\_

141)  $-9(-8)$

141) \_\_\_\_\_

142)  $-9(9)$

142) \_\_\_\_\_

143)  $-3(-5)$

143) \_\_\_\_\_



144)  $0(-5)$

144) \_\_\_\_\_

145)  $-12(-12)$

145) \_\_\_\_\_

146)  $-20(-11)$

146) \_\_\_\_\_

147)  $-8(-6)(-5)$

147) \_\_\_\_\_

148)  $-16(0)(-10)(8)$

148) \_\_\_\_\_

149)  $8(-1)(3)(-10)$

149) \_\_\_\_\_

**Multiply.**

150)  $7(7)$

150) \_\_\_\_\_

151)  $-5(-3)$

151) \_\_\_\_\_

152)  $-4(5)$

152) \_\_\_\_\_

153)  $9(-11)$

153) \_\_\_\_\_

154)  $-9(0)$

154) \_\_\_\_\_

155)  $-9(-9)$

155) \_\_\_\_\_

156)  $-11(-15)$

156) \_\_\_\_\_

157)  $-9(-8)(-3)$

157) \_\_\_\_\_

158)  $-20(0)(-9)(5)$

158) \_\_\_\_\_

159)  $8(-1)(7)(-2)$

159) \_\_\_\_\_

**Evaluate.**

160)  $(-4)^2$

160) \_\_\_\_\_

161)  $-3^4$

161) \_\_\_\_\_

162)  $(-1)^{30}$

162) \_\_\_\_\_

163)  $(-1)^{25}$

163) \_\_\_\_\_

164)  $-4^3$

164) \_\_\_\_\_

Find the quotient.

165)  $-27 \div (-9)$

165) \_\_\_\_\_

166)  $\frac{-36}{4}$

166) \_\_\_\_\_

167)  $\frac{-16}{-8}$

167) \_\_\_\_\_

168)  $\frac{-85}{5}$

168) \_\_\_\_\_

169)  $\frac{84}{-3}$

169) \_\_\_\_\_

170)  $\frac{-55}{0}$

170) \_\_\_\_\_

171)  $\frac{0}{76}$

171) \_\_\_\_\_

172)  $-171 \div 9$

172) \_\_\_\_\_

Translate the phrase; then simplify.

173) Find the quotient of -63 and 7.

173) \_\_\_\_\_

Translate the phrase to an algebraic expression. Use x to represent "a number."

174) Divide a number by -64.

174) \_\_\_\_\_

Evaluate the expression for the given replacement values.

175)  $xy$  for  $x = 8, y = -10$

175) \_\_\_\_\_

176)  $\frac{x}{y}$  for  $x = -12, y = -1$

176) \_\_\_\_\_

177)  $\frac{x}{y}$  for  $x = 0, y = -46$

177) \_\_\_\_\_

178)  $\frac{x}{y}$  for  $x = -27, y = 0$

178) \_\_\_\_\_

179)  $xy$  for  $x = -2, y = -3$

179) \_\_\_\_\_

180)  $\frac{x}{y}$  for  $x = -55, y = -1$

180) \_\_\_\_\_

181)  $\frac{x}{y}$  for  $x = 0, y = -20$

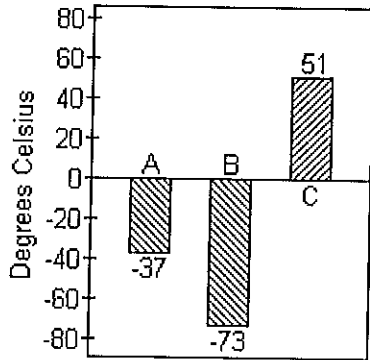
181) \_\_\_\_\_

182)  $\frac{x}{y}$  for  $x = -18, y = 0$

182) \_\_\_\_\_

Solve.

183) The graph shows the melting points in degrees Celsius of three compounds: Compound A, Compound B and Compound C. 183) \_\_\_\_\_



The melting point of Compound D is -1 times the melting point of Compound C. Find the melting point of Compound D.

184) Ben lost \$398 on each of 6 consecutive days in the stock market. If he had \$16,492 before his loss, how much does he have after his loss? 184) \_\_\_\_\_

185) A weather forecaster predicts that the temperature will drop 6 degrees each hour for the next 8 hours. If the temperature is 47 degrees before the temperature starts falling, what is the temperature after the drop? 185) \_\_\_\_\_

186) In 1994, Little City Productions produced and sold 3550 thousand of its Little City Collectible Bears. In 2001, the number of these bears produced and sold had dropped to 463 thousand. Find the change in the number of bears produced from 1994 to 2001, and find the average change per year in the number of bears produced over this period. 186) \_\_\_\_\_

187) A football team lost 8 yards on each of two consecutive plays. Represent the total loss as product of signed numbers and find the total loss. 187) \_\_\_\_\_

## 2.5

Simplify.

188)  $-4^3$  188) \_\_\_\_\_

189)  $(-2)^5$  189) \_\_\_\_\_

190)  $-(-4)^3$  190) \_\_\_\_\_

191)  $4 - 3(4 - 7)$  191) \_\_\_\_\_

192) $4(-2)(7 - 5) - 14$	192) _____
193) $135 \div (-9) - 12$	193) _____
194) $5^4 - 5(4)$	194) _____
195) $4 \cdot 3^2$	195) _____
196) $-7 + 8 \cdot 5$	196) _____
197) $\frac{3 - 17}{-1}$	197) _____
198) $\frac{-16}{5 + 3}$	198) _____
199) $14 - (-7)^2$	199) _____
200) $(-9)(6)^2 - (-5)(-9)$	200) _____
201) $ 10 - 11  \cdot (-24) \div (-4)$	201) _____
202) $(7 + 24) \cdot (19 - 2)$	202) _____
203) $(-45 \div 5) - (8 \div 8)$	203) _____
204) $2(4 - 7)^2 - 3(5 - 9)^3$	204) _____
205) $25 - [6 - (5 - 12)] + (1 - 3)^3$	205) _____
206) $7[-8 + 4(-3 + 7)]$	206) _____
207) $-19 + (5 \cdot 4 + 30) \div 5$	207) _____
208) $\frac{[3^2 + 6(-5)]}{[5 + (-12)]}$	208) _____
209) $\frac{8(-5) - 6 + 3}{-172 \div 4}$	209) _____
210) $\frac{16(-1) - (-4)(-9)}{2[-16 \div (-4 - 4)]}$	210) _____

$$211) \frac{9 - (-9)}{17 + 2(18 - 9) - 4^2 - 10}$$

211) \_\_\_\_\_

$$212) [9 + (13 - 4) + 8^2] - [4 - (-1)]^2$$

212) \_\_\_\_\_

Evaluate the expression for  $x = -2$ ,  $y = 3$ ,  $z = -4$ .

$$213) -4z^2$$

213) \_\_\_\_\_

$$214) 22 - z^2$$

214) \_\_\_\_\_

$$215) 2x - y^2$$

215) \_\_\_\_\_

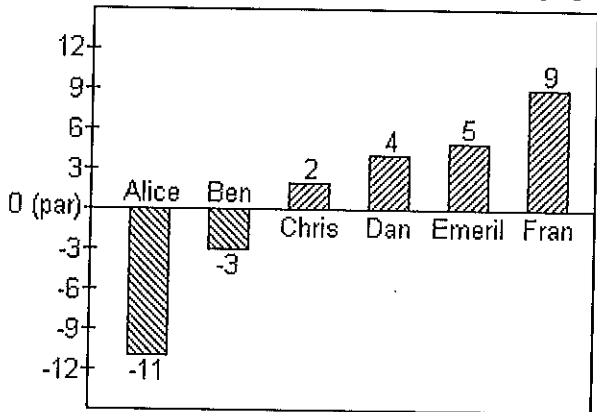
$$216) \frac{2z}{x}$$

216) \_\_\_\_\_

$$217) 8x + 5y - 6z$$

217) \_\_\_\_\_

Scores in golf can be 0 (also called par), a positive integer (also called above par) or a negative integer (also called below par). Below are the scores of some members of a college golf team in a recent tournament.



218) Find the average of the scores for Alice, Chris and Fran.

218) \_\_\_\_\_

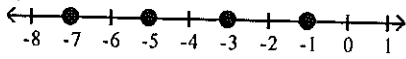
219) Find the average of the scores of the members shown.

219) \_\_\_\_\_

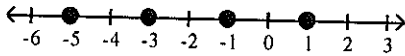
Answer Key

Testname: 22CH2

- 1) 138
- 2) -24
- 3) 338
- 4) 52
- 5) -20
- 6) -128
- 7)



8)



- 9)  $-7 < 5$
- 10)  $36 > -52$
- 11)  $-82 < -65$
- 12)  $9 > 0$
- 13)  $0 < 6$
- 14)  $-6 < 6$
- 15)  $-6 < 0$
- 16)  $66 > -85$
- 17)  $-76 < -31$
- 18)  $8 > 0$
- 19)  $0 < 5$
- 20)  $-8 < 8$
- 21)  $-2 < 0$
- 22) 24
- 23) 6
- 24) 1
- 25) 45
- 26) 43
- 27) -7
- 28) 4
- 29) -27
- 30) 17
- 31) 1
- 32) -137
- 33) -3
- 34) 3
- 35) -17
- 36) 21
- 37) -1
- 38) -175
- 39) 2002
- 40) 1998
- 41) 2003
- 42) -2
- 43) -93
- 44) -13
- 45) 3

Answer Key

Testname: 22CH2

- 46) -13
- 47) -14
- 48) 13
- 49) 7
- 50) -6
- 51) -13
- 52)  $<$
- 53)  $=$
- 54)  $<$
- 55)  $>$
- 56)  $<$
- 57)  $>$
- 58)  $<$
- 59)  $<$
- 60)

Number	Absolute Value of Number	Opposite of Number
64	64	-64
-83	83	83

- 61) -10,  $-|-6|$ ,  $-(-2)$ ,  $| -11 |$ ,  $5^2$
- 62)  $-|-9|$ ,  $-|2|$ ,  $2^2$ ,  $-(-6)$
- 63) 4
- 64) 7
- 65) 6
- 66) False
- 67) False
- 68) True
- 69) True
- 70) False
- 71) False
- 72) 1
- 73) -1
- 74) -2
- 75) -10
- 76) 5
- 77) 77
- 78) 2
- 79) -4
- 80) -65
- 81) 0
- 82) -9
- 83) -103
- 84) -2
- 85) 5
- 86) -12
- 87) -24
- 88) -63
- 89) -3
- 90) -52

Answer Key  
Testname: 22CH2

Answer Key  
Testname: 22CH2

Answer Key  
Testname: 22CH2

- 91) 9
- 92) 47 points
- 93) -\$938
- 94) -21 ft
- 95) 8°
- 96) 56 points
- 97) -\$694
- 98) -21 ft
- 99) 15°
- 100) True
- 101) False
- 102) True
- 103) False
- 104) -12
- 105) -10
- 106) -8
- 107) 11
- 108) 0
- 109) -16
- 110) -24
- 111) 0
- 112) 4
- 113) -560
- 114) -52
- 115) -40
- 116) -26
- 117) -77
- 118) -9
- 119) -15
- 120) -1
- 121) 27
- 122) -40
- 123) -21
- 124)  $42 + x$
- 125)  $-15 - x$
- 126)  $-31 - x$
- 127)  $-7 + x$
- 128)  $44 + x$
- 129)  $-10 - x$
- 130)  $-28 - x$
- 131)  $14 + x$
- 132) -30
- 133) 41
- 134) 22
- 135) 30
- 136) 40
- 137) -10
- 138) 13
- 139) 0
- 140) 90

- 141) 72
- 142) -81
- 143) 15
- 144) 0
- 145) 144
- 146) 220
- 147) -240
- 148) 0
- 149) 240
- 150) 49
- 151) 15
- 152) -20
- 153) -99
- 154) 0
- 155) 81
- 156) 165
- 157) -216
- 158) 0
- 159) 112
- 160) 16
- 161) -81
- 162) 1
- 163) -1
- 164) -64
- 165) 3
- 166) -9
- 167) 2
- 168) -17
- 169) -28
- 170) undefined
- 171) 0
- 172) -19
- 173) -9
- 174)  $x \div (-64)$  or  $\frac{x}{-64}$
- 175) -80
- 176) 12
- 177) 0
- 178) undefined
- 179) 6
- 180) 55
- 181) 0
- 182) undefined
- 183) -51°C
- 184) \$14,104
- 185) -1°
- 186) change: -3087 thousand bears  
average change: -441 thousand bears
- 187)  $2 \cdot (-8) = -16$  yds; 16 yard loss
- 188) -64

- 189) -32
- 190) 64
- 191) 13
- 192) -30
- 193) -27
- 194) 605
- 195) 36
- 196) 33
- 197) 14
- 198) -2
- 199) -35
- 200) -369
- 201) 6
- 202) 527
- 203) -10
- 204) 210
- 205) 4
- 206) 56
- 207) -9
- 208) 3
- 209) 1
- 210) -13
- 211) 2
- 212) 40
- 213) -64
- 214) 6
- 215) -13
- 216) 4
- 217) 23
- 218) 0
- 219) 1